




Thứ Sáu ngày 10 tháng 2 năm 2023  
Bài: Diện tích của một hình  
hàng-ti-mét vuông



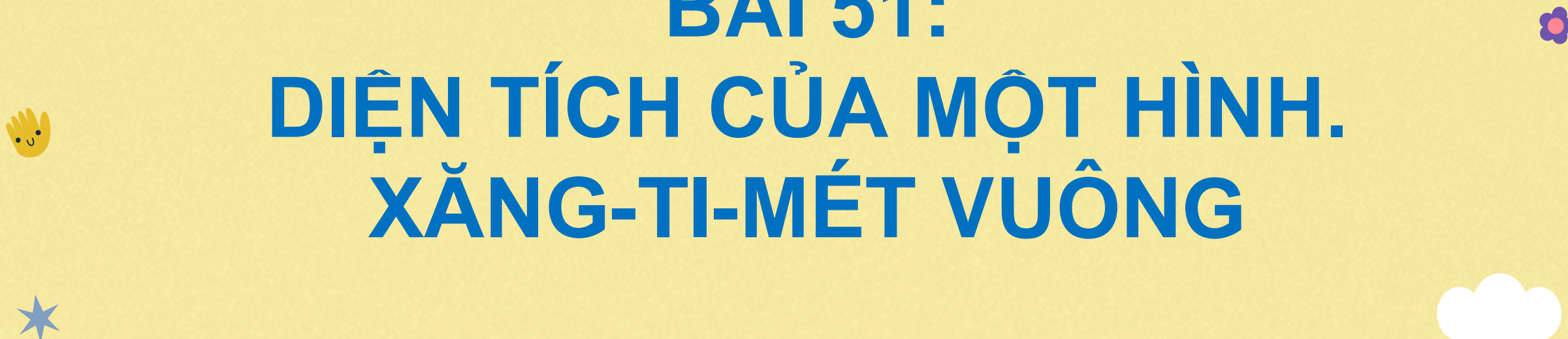
# Khởi Động








**CHỦ ĐỀ 9:  
CHU VI, DIỆN TÍCH MỘT SỐ  
HÌNH PHẪNG**



**BÀI 51:  
DIỆN TÍCH CỦA MỘT HÌNH.  
XĂNG-TI-MÉT VUÔNG**



Khám phá

# Diện tích một hình



Hình chữ nhật  
của tớ bé hơn hình  
tròn của cậu.

a)



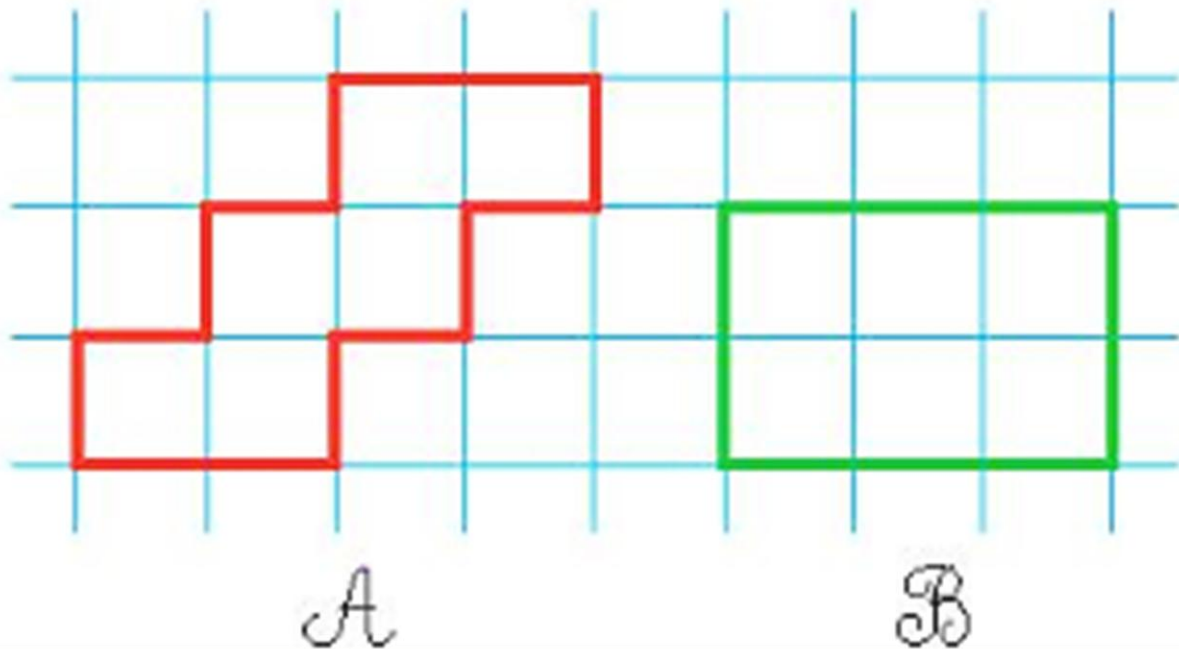
Hình chữ nhật nằm hoàn toàn trong hình tròn.



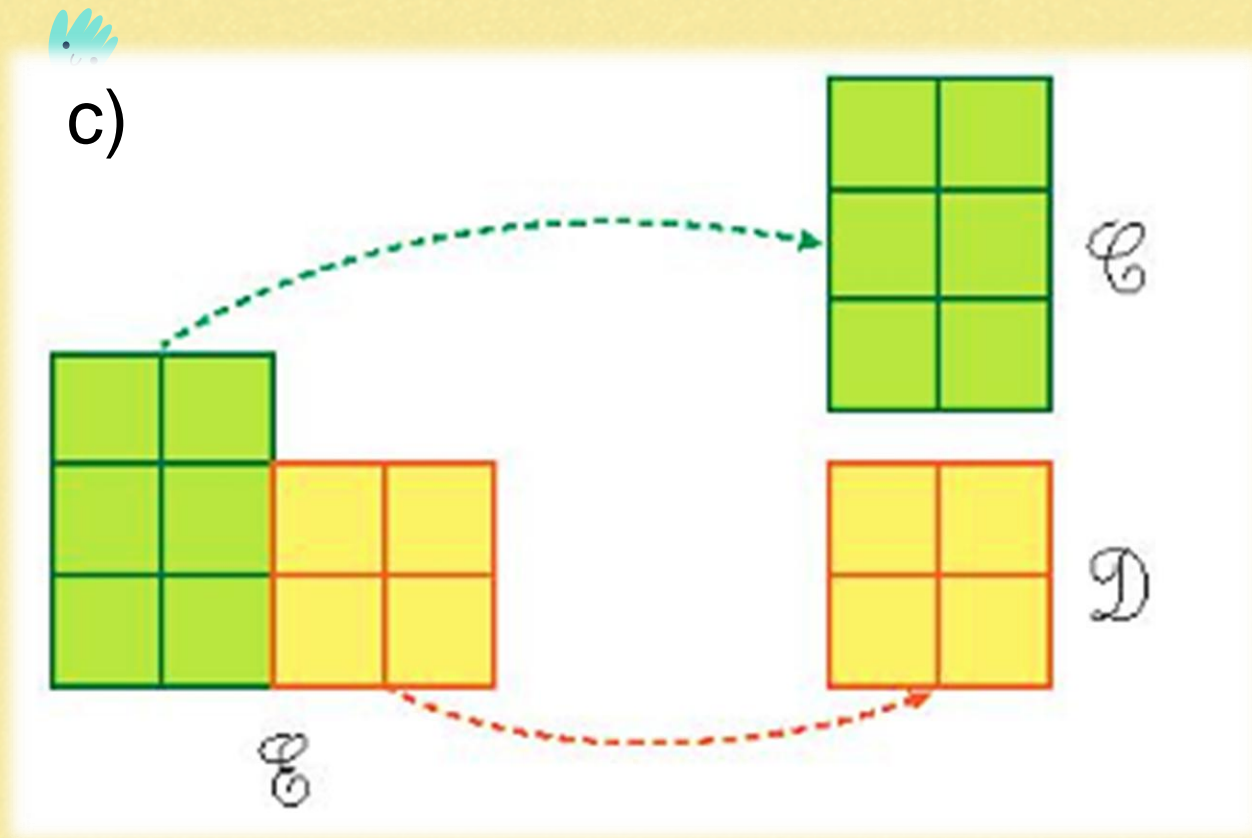
Ta nói: Diện tích hình chữ nhật bé hơn diện tích hình tròn.



b)



Hình *A* gồm 6 ô vuông, hình *B* cũng gồm 6 ô vuông như thế. Diện tích hình *A* bằng diện tích hình *B*.



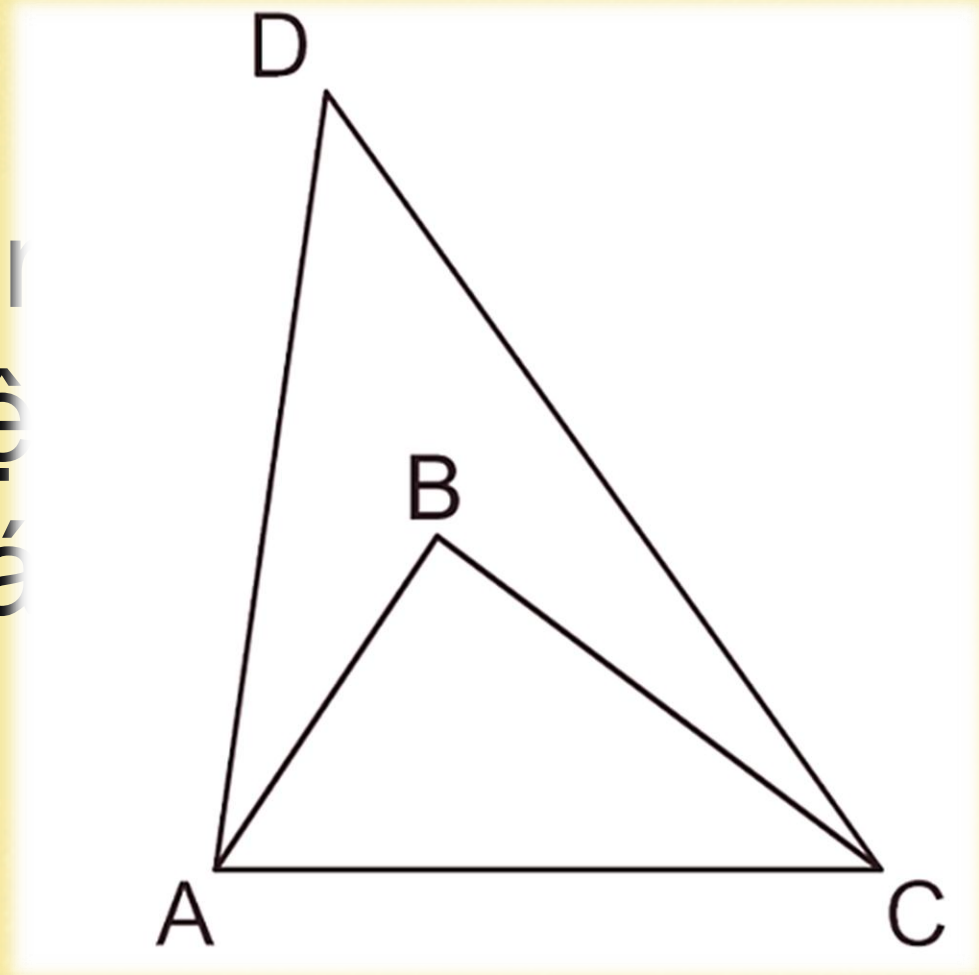
Hình  $E$  gồm 10 ô vuông cắt ra thành hai hình  $C$  và  $D$ . Hình  $C$  gồm 6 ô vuông. Hình  $D$  gồm 4 ô vuông.  
Ta nói: Diện tích hình  $E$  bằng tổng diện tích hình  $C$  và hình  $D$ .

hoạt động



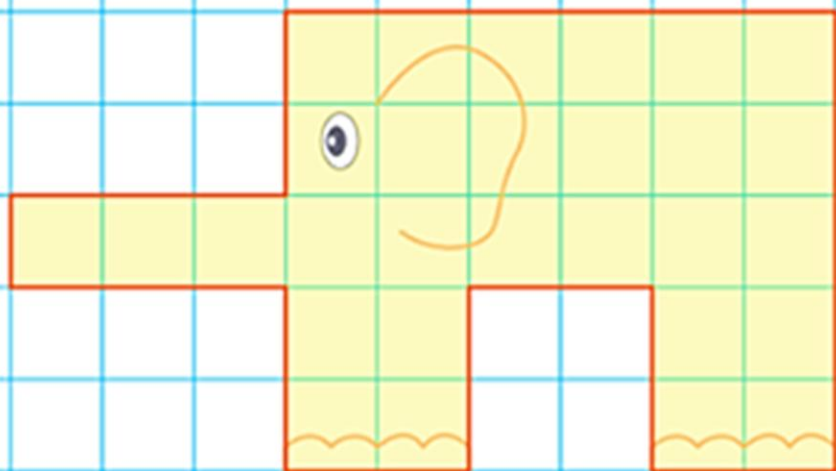
1 So sánh diện tích của hình tam giác ABC với diện tích hình tam giác ADC.

Diện tích hình tam giác ABC **bé hơn** diện tích hình tam giác ADC.

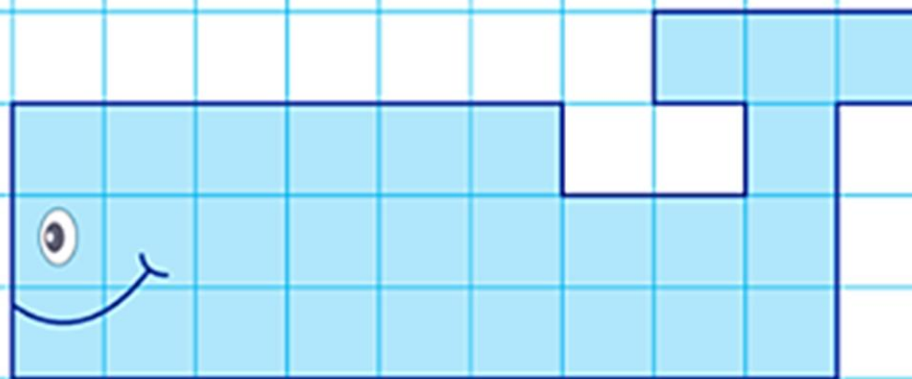


2 Hình con vật nào dưới đây có diện tích lớn hơn?

29 ô vuông



28 ô vuông

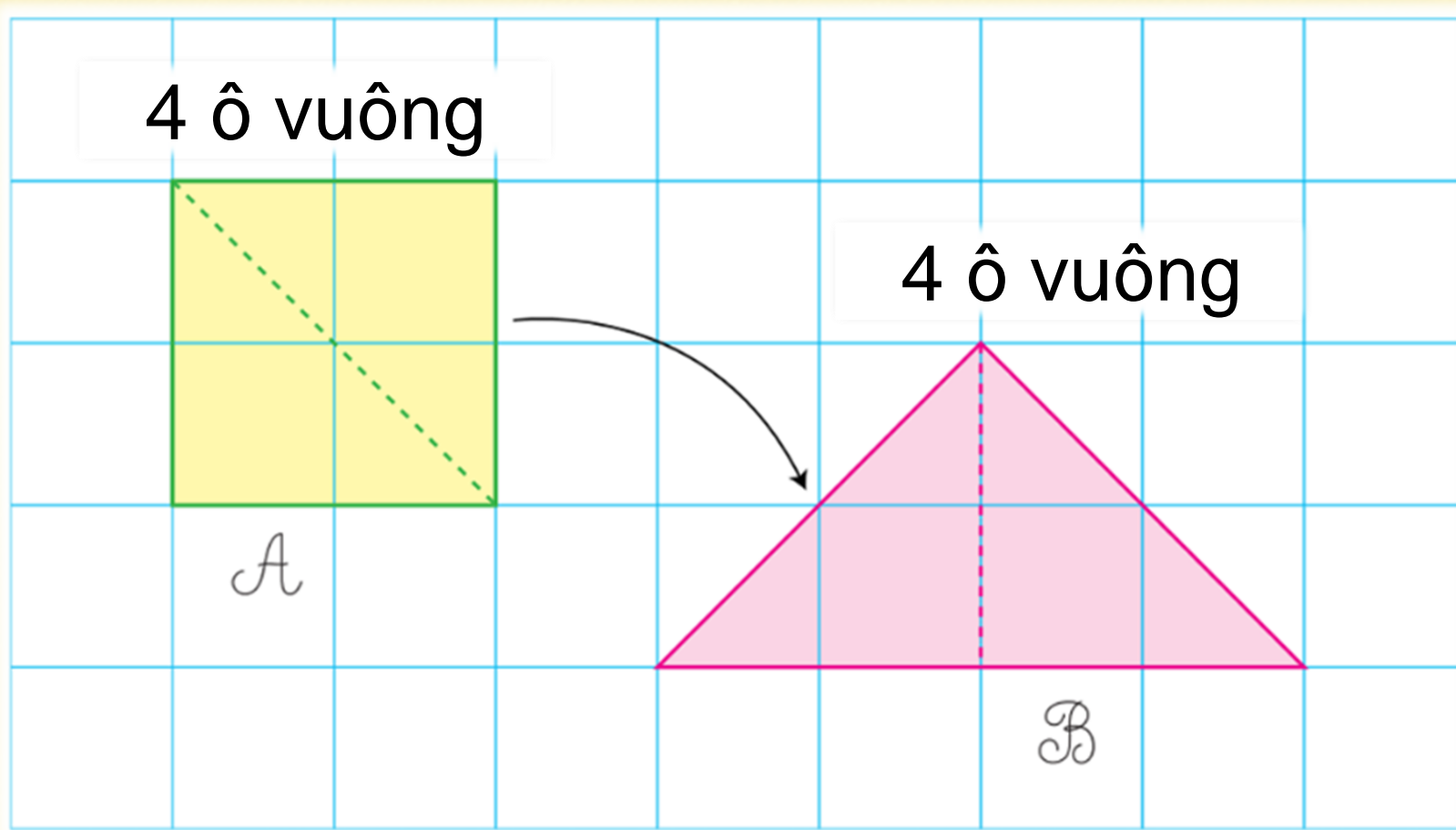


Con voi có diện tích lớn hơn.



3

So sánh diện tích hình  $A$  với diện tích hình  $B$ .



Diện tích hình  $A$  **bằng** diện tích hình  $B$ .

# Ứng dụng mở rộng






Em cần ghi nhớ gì cho  
bài học hôm nay?



# dẫn dờ





Thân chào quý thầy cô!



Thầy cô vui lòng dò bài trước khi lên lớp để tránh sai sót đáng tiếc nhé!



Nếu phát hiện nhầm lẫn gì, phiền thầy cô gửi góp ý giúp em Linh qua zalo:



0916.604.268.



Yêu thương!!!





Người soạn : Phan Thị Linh  
Năm sinh :  
Đơn vị công tác :  
LH : 0916.604.268

**Thân chào Quý Thầy Cô!**

**Rất mong nhận được phản hồi và góp ý từ Quý Thầy Cô để bộ giáo án ppt được hoàn thiện hơn.**

**Mọi thông tin phản hồi mong được QTC gửi về:**

**+ Zalo: 0916.604.268**

**+ Facebook cá nhân: <https://www.facebook.com/nhilinh.phan/>**

**+ Nhóm chia sẻ tài liệu: <https://www.facebook.com/groups/443096903751589>**